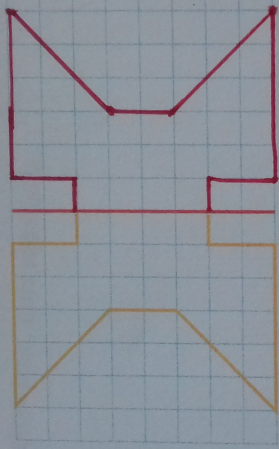


13

LE MIROIR ★

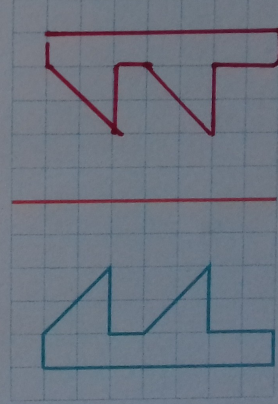
Trace la figure symétrique par rapport à l'axe rouge.



14

LE MIROIR ★

Trace la figure symétrique par rapport à l'axe rouge.



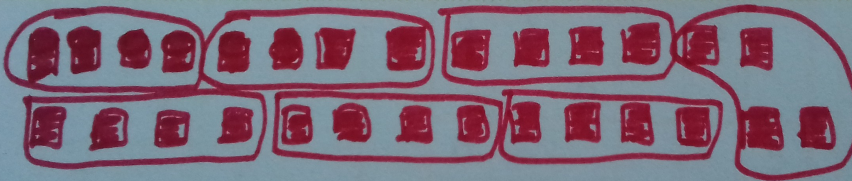
PROBLÈMES (1) ★★

25

Le maître fabrique des carnets. Il a 28 feuilles.

Il utilise 4 feuilles pour chaque carnet.

Combien de carnets va-t-il pouvoir fabriquer ?



$$4 \times 7 = 28$$

Il va pouvoir fabriquer 7 carnets.



LE PETIT SUDOKU ★★

7

2	1	4	6	3	5
3	5	6	4	1	2
4	2	1	5	6	3
6	3	5	2	4	1
5	6	3	1	2	4
1	4	2	3	5	6

8

2	1	3	5	4	6
4	5	6	1	2	3
6	3	4	2	1	5
5	2	1	6	3	4
1	4	5	3	6	2
3	6	2	4	5	1

2	1
3	
4	