

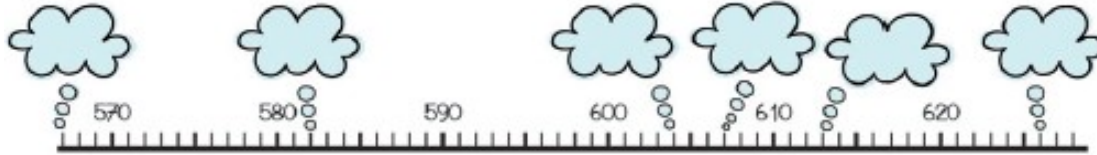



# Fiche « Exercices de Révisions », vendredi 27 mars.

Écris les nombres qui correspondent à chaque nuage placé sur la droite graduée.



Observe le tableau et complète-le.

742		7c 4d 2u	$(7 \times 100) + (4 \times 10) + 2$
659			
		3d 5c	
			$(5 \times 100) + (3 \times 10) + 6$

Complète les bandes numériques.

	478	
--	-----	--

	300	
--	-----	--

	899	
--	-----	--

--	--	--

	212	
--	-----	--

	555	
--	-----	--

**Complète les suites.**

480	481	482						
-----	-----	-----	--	--	--	--	--	--

372	374	376						
-----	-----	-----	--	--	--	--	--	--

100	200	300						
-----	-----	-----	--	--	--	--	--	--

654	664	674						
-----	-----	-----	--	--	--	--	--	--

**Entoure ce qui est demandé.**

Le chiffre des dizaines	Le chiffre des unités	Le chiffre des centaines
325	487	254
156	784	963
132	201	356
95	34	100

Le nombre de dizaines	Le nombre d'unités	Le nombre de centaines
547	627	123
84	874	845
367	6	416
102	47	10

**Complète avec un nombre qui convient.**

354 < _____	500 + 70 + 4 > _____	479 < _____
8d5u7c > _____	200 + 3 + 90 = _____	701 > _____
_____ > 3c1d0u	_____ > 199	_____ < 800
_____ < 35	_____ > 9	_____ < 438

905 < _____	340 + 10 > _____	447 < _____
5d7u8c > _____	600 + 7 + 80 = _____	650 > _____
_____ > 2c4d3u	_____ > 399	_____ < 700
_____ < 101	_____ > 69	_____ < 834


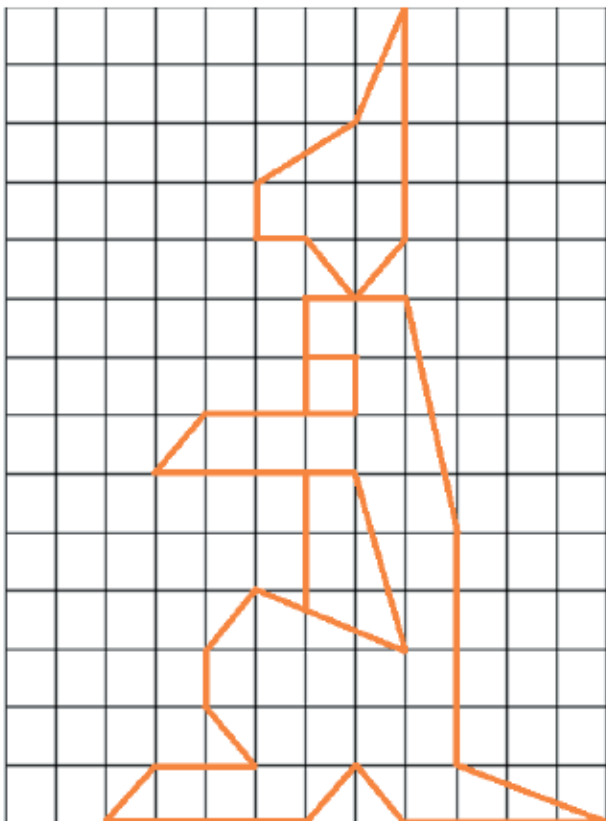
**Observe et complète le tableau.**

$(4 \times 100) + (7 \times 10) + 5$	475
	827
$(2 \times 100) + (4 \times 10) + 9$	
	694
$(5 \times 100) + 8$	
$(7 \times 100) + (5 \times 10)$	
	302

**Relie les écritures qui vont ensemble.**

345	$(2 \times 100) + (5 \times 10) + 1$
125	$(8 \times 100) + 3$
453	$(2 \times 100) + (3 \times 10) + 4$
251	$(4 \times 100) + (5 \times 10) + 3$
234	$(9 \times 100) + (7 \times 10)$
803	$(1 \times 100) + (2 \times 10) + 5$
970	$(3 \times 100) + (4 \times 10) + 5$

**Reproduis le kangourou.**



Au Pérou, Juliette et Valentin ont découvert une ferme au pied de la montagne Ausangate qui culmine à 6372 m. Dans cette ferme, il y avait 3 enclos de lamas et 2 enclos de 12 chèvres.

Quel est le nombre total d'animaux?

Je dessine la situation

Je fais les opérations

Je réponds à la question

Voici la liste des monuments visités par Louise et Apolline à Londres, lors de leur voyage dans cette capitale, avec le prix d'un billet.

- Abbaye de Westminster: 8 €
- Picadilly Circus: Gratuit
- Madame TUSSAUD: 25 €
- Croisière sur la Tamise: 7€50
- Château de Windsor: 11 €

Combien ont dépensé les deux filles en totalité pour visiter les monuments?

Je dessine la situation

Je fais les opérations

Je réponds à la question