




Exercice : complète comme le modèle.

		
5 dizaines	8 dizaines	11 dizaines
$5 \times 10 = 50$	$8 \times 10 = 80$	$11 \times 10 = 110$

Exercice :

$$7 \times 10 = 70 \quad 4 \times 10 = 40 \quad 9 \times 10 = 90 \quad 11 \times 10 = 110$$

$$12 \times 10 = 120 \quad 16 \times 10 = 160 \quad 27 \times 10 = 270 \quad 56 \times 10 = 560$$

Exercice :

$$5 \times 10 = 50 \quad 8 \times 10 = 80 \quad 15 \times 10 = 150$$

$$35 \times 10 = 350 \quad 10 \times 42 = 420 \quad 63 \times 10 = 630$$

$$12 \times 3 = 36 \quad 21 \times 5 = 105 \quad 32 \times 4 = 128$$

Les horaires du tramway

Voici les horaires du tramway du Havre : Il part de « La Hève » et va jusqu'à « la plage », puis un autre fait le même parcours.

1/ Combien de fois va-t-il s'arrêter ?

14 fois

2/ Est-ce qu'une personne handicapée peut monter à l'arrêt « Bains maritimes » ?

non

3/ Combien de temps faut-il pour faire tout le parcours ?

13 minutes

4/ Combien faut-il de temps entre l'arrêt « J Bart » et l'arrêt « Les Guêpes » ?

6 minutes

Arrêt		
La Hève		16:01
Carrousel		16:01
J. Bart		16:03
igneuval		16:03
St André		16:04
J. Boulard		16:05
Carreau		16:06
Broche à rôtir		16:07
St Denis		16:08
Les Guêpes		16:09
Albert 1er		16:10
G. De Maupassant		16:11
Bains maritimes		16:12
S. de Champlain		16:13
La Plage		16:14