





## PROBLÈMES (2) ☆☆☆

16

Dans le poulailler, Madame Legras a ramassé 23 œufs.  
Combien de boîtes de 6 œufs peut-elle remplir  
entièrement ?




Elle peut remplir 3 boîtes  
pleines.



## PROBLÈMES (2) ☆☆☆

17

Dans la basse-cour, il y a 39 poules au total. En regardant  
dehors, Monsieur Legras n'en compte que 18.  
Combien de poules sont cachées dans leur abri ?



$$39 - 18 = 21$$

$$\text{ou } 18 + 21 = 39$$

21 poules sont cachées.

tout

leg